

Alunno _____ Classe _____

1. Quale fiume rendeva fertile il territorio dell'antico Egitto? _____

2. Collega i nomi delle stagioni agricole alle loro caratteristiche usando la stessa lettera.

A Akhet

la stagione dell'aridità

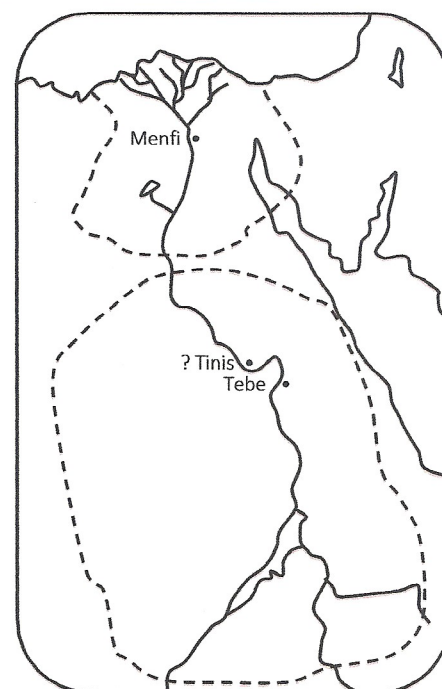
B Peret

la stagione dell'emersione, in cui si coltivano le terre e si raccolgono i frutti della terra

C Shemu

la stagione dell'inondazione

3. Sulla carta geografica qui accanto colora in questo modo la parte del territorio compresa nei confini tratteggiati: verde il Basso Egitto, giallo l'Alto Egitto.



4. Come si chiamava il re che unificò il Basso e l'Alto Egitto?

- a. Djoser b. Narmer
c. Ramses d. Tutankhamon

5. Leggi le frasi e per ognuna barra V se vera, F se falsa.


a. I terreni agricoli nell'antico Egitto erano proprietà dello Stato.	V	F
b. I contadini potevano decidere quanto del loro raccolto consegnare ai funzionari.	V	F
c. Non si praticava la pesca.	V	F
d. Il lavoro degli artigiani è raffigurato sulle pareti di alcune tombe.	V	F
e. Molte merci venivano trasportate via fiume.	V	F
f. Le abitazioni più modeste erano a più piani.	V	F
g. Le città non avevano mura difensive.	V	F

6. Inserisci nel testo a buchi le parole mancanti.

Nell'antico Egitto la _____ si formava quando un uomo e una donna, spesso molto giovani, decidevano di vivere insieme; per sposarsi facevano un _____. Solo il _____ poteva avere più di una moglie, che spesso era una _____; questo serviva per stabilire un legame di alleanza e collaborazione tra i re stranieri. A occuparsi dei bambini era la _____. Solo i figli delle famiglie _____ venivano istruiti da un _____ personale o frequentavano le scuole nei _____. La scrittura era chiamata _____, parola che significa "_____"; era formata da circa 7.000 disegni che rappresentavano suoni o ideogrammi. Con l'uso della carta di _____ i segni furono semplificati; fu inventata quindi la scrittura detta _____. Per imparare a scrivere occorreva studiare molto; il lavoro dello _____ era perciò prestigioso: solo uno su cento lo sapeva fare.

7. Completa la piramide sociale egizia scrivendo le parole date nel gradone giusto: alti funzionari, visir, sommo sacerdote, contadini, scribi, faraone, guerrieri, schiavi, operai, artigiani, mercanti.

8. Mini cruciverba.




VERTICALI

- 1. Il primo faraone a farsi costruire una piramide.
- 2. Grande statua con corpo di leone e testa umana.
- 3. La tomba dei faraoni prima della piramide.

ORIZZONTALI

- 4. La località dove fu trovata la stele con la quale si riuscì a interpretare i geroglifici.
- 5. L'archeologo che scoprì la tomba di Tutankhamon.
- 6. La piana dove si trovano le grandi piramidi di Cheope, Chefren e Micerino.

9. Osserva il papiro trovato nella tomba di Hunefer, un famoso scriba. Esso è un "libro dei morti", una specie di "guida" che aiutava il defunto a trovare la strada per giungere nel Duat. Descrivi sul quaderno le varie scene inserendo il maggior numero possibile di particolari e nomi di divinità.



10. Racconta sul quaderno le varie fasi del procedimento di mummificazione e sepoltura, inserendo nel testo le seguenti parole: **organi interni, natron, bende di lino, amuleti, sarcofago, ushabti.**

