

1° DECINE E UNITÀ... ALLA SCOPERTA DEI
2° NUMERI.

3° AGGIUNGI SEMPRE 1 UNITÀ DOPO LA DECINA E

4° FORMA I NUMERI PIÙ GRANDI DEL 10.



6° $1 \text{ da} \text{ e } 1 \text{ u} = 11$

7° $10 + 1 = 11$

8° undici



ESEMPIO

DECINA

UNITA'



$$1 \text{ da} \text{ e } 2 \text{ u} = 12$$

$$10 + 2 = 12$$

dodici



0	2
da	u
1	2

DECINA

UNITA'



$$1 \text{ da} \text{ e } 3 \text{ u} = 13$$

$$10 + 3 = 13$$

tredici



0	3
da	u
1	3

DECINA


UNITÀ



$$1 \text{ da e } 4 \text{ u} = 14$$

$$10 + 4 = 14$$

quattordici



DECINA

UNITÀ



$$1 \text{ da e } 5 \text{ u} = 15$$

$$10 + 5 = 15$$

quindici





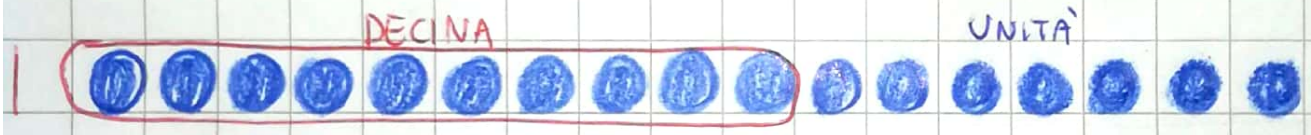

1 da e 6 u = 16

10 + 6 = 16

sedici



da	u
1	6



1 da e 7 u = 17

10 + 7 = 17

diciassette



da	u
1	7

DECINA

UNITA'



$$1 \text{ da} \text{ e } 8 \text{ u} = 18$$

$$10 + 8 = 18$$

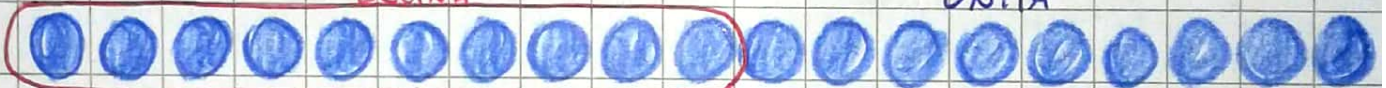
dieciotto



	0
da	1
	8

DECINA

UNITA'



$$1 \text{ da} \text{ e } 9 \text{ u} = 19$$

$$10 + 9 = 19$$

dieciannove



	0
da	1
	9